

**ROTEIRO DE RECUPERAÇÃO FINAL DO 1º
TRIMESTRE (ATIVIDADES COMPLEMENTARES DE
ESTUDO – COVID 19**

SALA DE RECURSOS MULTIFUNCIONAL



ESCOLA MUNICIPAL PROFESSOR SEBASTIÃO FELTRIN

TURNO: MANHÃ

COMPONENTES CURRICULARES: LÍNGUA PORTUGUESA/ MATEMÁTICA

PROFESSORA: MARCIA NOVAES

PERÍODO DE REALIZAÇÃO: 27 a 4 de dezembro

DEVOLVIDO NO DIA: ___ / ___ / ___

ALUNO (A): _____ **TURMA:** _____

Senhores Pais e Responsáveis


Vocês estão recebendo um **ROTEIRO DE RECUPERAÇÃO FINAL REFERENTE AO 1º TRIMESTRE - Atividades complementares de estudo para o período de isolamento – COVID 19.** Contamos com sua participação para que todas essas atividades sejam realizadas e assim possamos atribuir presença e anexar as tarefas no portfólio do estudante. É importante que o vínculo do aluno com os estudos não seja interrompido, apesar das dificuldades em relação as atividades remotas. Qualquer dúvida estamos a disposição no WhatsApp.

Pedagogas

O QUE VAI ESTUDAR?	Língua Portuguesa e Matemática Formação de palavras e frases, leitura, ortografia Antecessor e sucessor, sequências numéricas Formas geométricas Operações de adição
PARA QUÊ VAMOS ESTUDAR ESSES CONTEÚDOS?	Língua Portuguesa e Matemática Aprender a escrever as palavras, realizar leitura, formar frases com organização de pensamento Para desenvolver a observação, percepção visual, atenção e concentração. Relacionar número a quantidade e compreender quais são os antecessores e sucessores Identificar formas geométricas em objetos Realizar cálculos através de operações matemáticas
COMO VAMOS ESTUDAR ESSES CONTEÚDOS?	<ul style="list-style-type: none">➤ Leia atentamente todas as instruções de cada atividade, para depois realizá-las.➤ Caso tenha dúvidas entre em contato com seu professor, pelo WhatsApp. Não deixe nada em branco, sem fazer.
COMO VAMOS REGISTRAR O QUE APRENDEMOS?	<ul style="list-style-type: none">➤ Realizando no próprio roteiro TODAS as atividades propostas, e entregando dentro do prazo na biblioteca com letra legível e capricho.

ROTEIRO FINAL DE RECUPERAÇÃO DE ESTUDOS - LÍNGUA PORTUGUESA E MATEMÁTICA

ESCREVA O NOME DOS DESENHOS DE ACORDO COM SEU NÚMERO



- | | |
|----------|-----------|
| 1- _____ | 7- _____ |
| 2- _____ | 8- _____ |
| 3- _____ | 9- _____ |
| 4- _____ | 10- _____ |
| 5- _____ | 11- _____ |
| 6- _____ | 12- _____ |


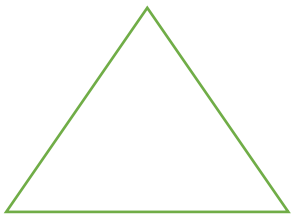
LEIA AS PALAVRAS EM VOZ ALTA E PINTE OS DESENHOS

OLHE A GRAVURA PENSE EM UMA FRASE E FALE EM VOZ ALTA A FRASE QUE PENSOU.

ESCREVA A FRASE EMBAIXO DO DESENHO



QUAL O NOME DESTAS FORMAS?



ESCREVA OS NOMES
DENTRO DOS
DESENHOS

FAÇA UMA LISTA DE COISAS QUE VOCÊ TEM NA SUA CASA COM ESSAS FORMAS

COMPLETE AS SEQUÊNCIAS.

A) 87- 88- _____ - _____ - _____ - _____ - _____

B) 65 - 66 - _____ - _____ - _____ - _____ - _____

C) 74 -75- _____ - _____ - _____ - _____ - _____

D) 10-9-8- _____ - _____ - _____ - _____ - _____

E) 15-14-13- _____ - _____ - _____ - _____ - _____

ESCREVA O ANTECESSOR E O SUCESSOR DOS NÚMEROS:

_____ 29 _____	_____ 65 _____
_____ 48 _____	_____ 70 _____
_____ 89 _____	_____ 97 _____
_____ 100 _____	_____ 102 _____
_____ 40 _____	_____ 91 _____
_____ 90 _____	_____ 103 _____

PINTANDO O RESULTADOS

Resolva as adições, depois pinte apenas o resultado correto

$\begin{array}{r} 24 \\ +12 \\ \hline \end{array}$	46	$\begin{array}{r} 36 \\ +13 \\ \hline \end{array}$	36	$\begin{array}{r} 72 \\ +15 \\ \hline \end{array}$	87
	36		38		68
	41		48		67
$\begin{array}{r} 30 \\ +10 \\ \hline \end{array}$	50	$\begin{array}{r} 23 \\ +25 \\ \hline \end{array}$	57	$\begin{array}{r} 44 \\ +25 \\ \hline \end{array}$	69
	40		48		55
	60		46		85
$\begin{array}{r} 63 \\ +22 \\ \hline \end{array}$	88	$\begin{array}{r} 71 \\ +18 \\ \hline \end{array}$	78	$\begin{array}{r} 65 \\ +22 \\ \hline \end{array}$	77
	85		89		69
	76		98		63

